
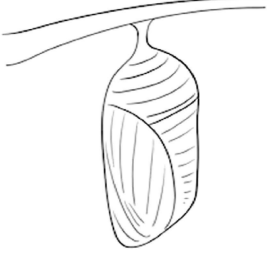
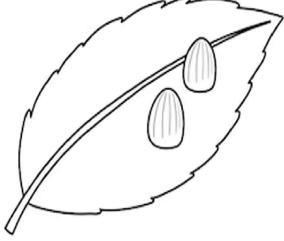



تیسرا مہینا، دوسرا ہفتہ، چوتھا دن **اسلیبیں**: باب نمبر 6 (دوسرا نصف): بشق سوال نمبر 2


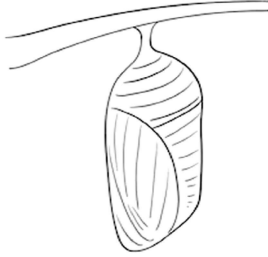
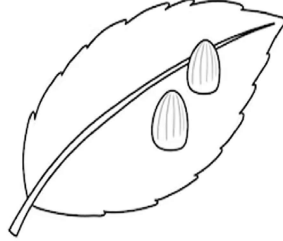

سوال نمبر 1: تصاویر میں تغلی کا دور حیات دیا گیا ہے۔ خالی جگہ میں دور حیات کے مرحلے کا نام لکھیں۔ (2.5x4=10)

	_____
	_____
	_____
	_____

کل نمبر: 10 واقفیت عامہ (سوئم) ٹیسٹ نمبر 4 وقت: 10 منٹ

تیسرا مہینا، دوسرا ہفتہ، چوتھا دن **اسلیبیں**: باب نمبر 6 (دوسرا نصف): بشق سوال نمبر 2

سوال نمبر 1: تصاویر میں تغلی کا دور حیات دیا گیا ہے۔ خالی جگہ میں دور حیات کے مرحلے کا نام لکھیں۔ (2.5x4=10)

	_____
	_____
	_____
	_____

وقت: 10 منٹ

واقفیت عامہ (سوئم) ٹیسٹ نمبر 4

کل نمبر: 10